

Vraag 1:

Normaal kost deze fiets € 360,-
Je krijgt 10% korting. Wat is de nieuwe
prijs?



Vraag 2:

De prijs van deze skateboard is € 80,-
Je krijgt 25% korting. Wat is de nieuwe
prijs?



Vraag 3:

Tom liep 10 km in 47:26,12.

Petra liep 10 km in 51:53,88.

Hoeveel seconden was Tom sneller dan Petra?



Vraag 4:

Casper liep de 100 m in 14,89 sec.
Sophie was 71 honderdsten langzamer.
Wat was de tijd van Sophie?



Vraag 5:

Zet de onderstaande kommagetallen in volgorde van klein naar groot.

0,9

0,63

0,095

0,499

0,21

0,215

Vraag 6:

Welke breuken en kommagetallen horen bij elkaar?

$$\frac{3}{5}$$

0,4

$$\frac{1}{4}$$

0,6

$$\frac{1}{8}$$

0,125

$$\frac{2}{5}$$

0,25

$$\frac{2}{3}$$

0,667

Vraag 7:

20 stoeptegels kosten € 7,50

Wat kosten 160 stoeptegels?



Vraag 8:

Bakker Sjors verkoopt gemiddeld 14 broden in een uur. Hoeveel broden verkoopt Sjors in 12 uur?




Vraag 9:

Koen heeft voor rekenen de volgende cijfers
gehaald:

5 – 7 – 10 – 9 – 9

Wat heeft Koen gemiddeld
gehaald voor rekenen?



Vraag 10:

Hoeveel sommen heeft Senna gemiddeld per dag gemaakt?

Ma	Di	Wo	Do	vr
29	73	12	38	48



Vraag 11:

Vereenvoudig de onderstaande breuken:

$$1 = \frac{9}{12}$$

$$2 = \frac{5}{20}$$

$$3 = \frac{12}{32}$$

$$4 = \frac{15}{50}$$

Vraag 12:

Vereenvoudig de onderstaande breuken:

$$1 = \frac{4}{18}$$


$$2 = \frac{8}{24}$$

$$3 = \frac{16}{20}$$

$$4 = \frac{24}{32}$$

Vraag 13:

Iedere minuut stroomt er 12 liter water in het bad. Hoeveel liter water zit er na 6,5 minuut in het bad?



Vraag 14:

Het opblaaszwembad kost € 30,-
Je krijgt 40% korting. Wat moet je nu nog
betalen voor het zwembad?



Vraag 15:

De wasmachine kost normaal € 480,-.

Je krijgt € 96,- korting.

Hoeveel procent is dat?




Vraag 16:

De televisie kost normaal € 220,-.

Je krijgt € 88,- korting.

Hoeveel procent is dat?



Vraag 17

Anouk heeft gisteren 28,45 km gefietst.

Camiel heeft 2,9 km minder gefietst.

Hoeveel km heeft Camiel gefietst?



Vraag 18

Tom fietst gemiddeld 16 km per uur. Hij fietst in totaal 60 km. Hoelang doet hij daar ongeveer over?



Vraag 19

Wie heeft gelijk?

Dominik zegt: **95.000** is bijna **1 miljoen**.

Norah zegt: 100 keer 10.000 is hetzelfde
als **1 miljoen**.



Vraag 20

Hoeveel bladzijden heeft Nienke gemiddeld per dag gelezen?

Maandag	22
Dinsdag	14
Woensdag	16
Donderdag	28
Vrijdag	25

